

EXAMEN RITMO ACCESO A 3º EE

CONSERVATORIO PROFESIONAL DE MÚSICA DE SEGOVIA
2022



9



14



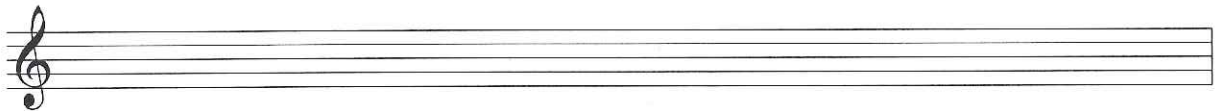
EXAMEN TEORÍA ACCESO A 3º EE
CONSERVATORIO PROFESIONAL DE MÚSICA DE SEGOVIA

2022

INSTRUMENTO:

NOMBRE Y APELLIDOS: _____

1. Escribe la escala la menor (natural) y señala los tonos (T) y semitonos (S): 1 PUNTO




2. Escribe la escala do mayor y señala los tonos (T) y semitonos (S): 1 PUNTO

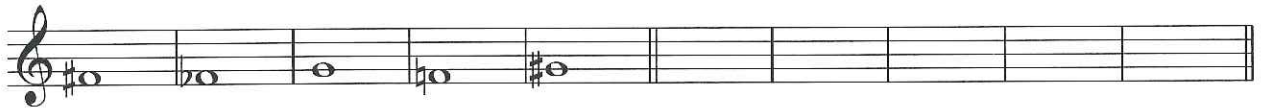


3. a) Coloca el **compás** de esta frase: (1 PUNTO)

- b) ¿Que significan estas curvas y estos “picos”? ¿Como se llaman?
(1 PUNTO)



4. Ordena de grave a agudo las siguientes notas: (1 PUNTO)



5. Indica, cuál de los dos es semitono cromático, y cual es diatónico. (1 PUNTO)




6. Nombra estos intervallos: (número y especie) (2 PUNTOS)



7. Forma intervallos ascendentes (1 PUNTO)

3° M 5° J 3° m 6° M



8. Escribe las siguientes tonalidades: (2 PUNTOS)

- LA TONALIDAD MAYOR Y MENOR que no tiene ninguna alteración en la armadura _____
- LA TONALIDAD MAYOR Y MENOR que tiene un # en la armadura _____
- LA TONALIDAD MAYOR Y MENOR que tiene un b en la armadura _____

DICTADO

